

ஆயக்குடி இலவச பயிற்சி மையம்

Group-I மாதிரித்தேர்வு

- அரசியல் அமைப்பு நிர்ணய சபை பற்றிய கீழ்க்கண்ட கூற்றுகளில் சரியானது எது?
 - இது வயதுவந்தோர் வாக்குரிமை வாக்குரிமையின்படி தேர்வு செய்யப்பட்டது அல்ல
 - இது நேரடி தேர்தல் மூலம் தேர்வு செய்யப்பட்டது
 - இது பல கட்சி உறுப்பினர்களை கொண்டது
 - பல கமிட்டிகளாக பிரிக்கப்பட்டு செயல்பட்டது

a. 1, 2 b. 2, 3 c. 1, 4 d. 1, 2, 3, 4
- இந்திய அரசியலமைப்பு சட்டத்தின்படி கீழ்க்கண்டவற்றுள் எது
 - குடியரசு தலைவர் பாராளுமன்றத்தில் எந்தவொரு அவையிலும் உறுப்பினராக இருக்க கூடாது
 - பாராளுமன்றமென்பது குடியரசுத்தலைவரையும் கீழவை மற்றும் மேலவை ஆகியவற்றை உள்ளடக்கியதாகும்.

a. இரண்டும் தவறு b. இரண்டும் சரி c. 1 மட்டும் சரி d. 2 மட்டும் சரி
- பொது நல வழக்கு எனப்படும் முறை கீழ்க்கண்ட எந்த நாட்டில் உருவானது?

a. இங்கிலாந்து b. ஆஸ்திரேலியா c. USA d. கனடா
- இந்திய பாராளுமன்ற அமைப்பு முறையானது பிரிட்டிஷ் பாராளுமன்ற அமைப்பு முறையிலிருந்து கீழ்க்கண்ட எந்த விதத்தில் வேறுபடுகிறது?

a. பெளரளவிலான மற்றும் உண்மையான இரு நிர்வாக அமைப்புகள்

b. கூட்டுப்பொறுப்பு முறை c. ஈரவை d. நீதிப்புனராய்வு முறை
- கீழ்க்கண்ட குழுக்களில் பாராளுமன்ற கீழவைக்கு மட்டும் உரித்தானது எது?

a. உத்திரவாதக கமிட்டி (Committe on Assurance) b. Committe on Delegated Legislation

c. பொதுத்துறை நிறுவனங்களுக்கான குழு Committe on public undertakings d. மதிப்பீட்டுக்குழு (Estimates Committe)
- பொருத்துக?

A) குறுகிய கால விவாதம் 1. 1964

B) கவன ஈர்ப்பு தீர்மானம் 2. 1962

C) பூஜ்ய நேரம் 3. 1953

D) பொதுத்துறை நிறுவனங்களுக்கான குழு 4. 1954

	A	B	C	D
a)	4	3	1	2
b)	3	4	2	1
c)	4	2	1	3
d)	3	2	4	1
- நாடாளுமன்றத்தின் அனுமதியின்றி கீழ்க்கண்ட எந்த நிதியிலிருந்து செலவினங்கள் மேற்கொள்ள இயலும்?
 - இந்திய தொகுப்பு நிதி
 - இந்திய பொதுக்கணக்கு
 - சில்லறைச் செலவின நிதி

a. 1, 2 மட்டும் b. 1, 2, 3 c. 2, 3 மட்டும் d. 1, 3 மட்டும்
- சரியாக காலவரிசையினை தேர்வு செய்க?
 - அல்டமாஸ் கபீர்
 - R.M.லோதா
 - பி.சதாசிவம்
 - H.L.தத்து

a. 1, 3, 2, 4 b. 2, 1, 4, 3 c. 4, 2, 3, 1 d. 3, 2, 1, 4
- கீழ்க்கண்டவற்றுள் சரியான குறியீட்டை தேர்வு செய்க?
 - தனி ஆந்திர மாநில கோரிக்கைக்கு ஆதரவாக உண்ணாவிரதம் இருந்து உயிரிந்தவர் பொட்டிஸ்ராமலு
 - குமாரி மாவட்டத்தை தமிழகத்துடன் இணைக்க போராடியவர் மார்ஷல் நேசமணி
 - திருத்தணியை சென்னை மாகாணத்துடன் இணைக்க போராடியவர் - மா.பொ.சிவஞானம்
 - டாக்டர். டி.எஸ்.எஸ்.ராஜன் என்பவர் தமிழ்நாட்டின் முதல் தனிநபர் சத்தியாகிரகியாக சிறை சென்றவர்

a. 1, 2, 4 சரி b. 2, 3, 4 சரி c. 1, 3 மட்டும் சரி d. அனைத்தும் சரி
- சரியாக பொருந்தியுள்ளதை தேர்வு செய்க?
 - இக்தாஸ் நிலம் (Iqta) - பணியாளர்களுக்கு ஊதியத்திற்கு பதிலாக வழங்கக்கூடிய நிலம்
 - கலிஸா நிலம் (Khalisa) -சுல்தானின் நேரடி கட்டுப்பாட்டில் இருந்து அரசவை செலவுகளுக்கு வரி வசூலிக்கக்கூடிய நிலம்
 - இனாம் (Inam) - மதத்தலைவர்கள் அல்லது மத அமைப்புகளுக்கு தானமாக வழங்கப்பட்ட நிலம்

a. 1 மட்டும் b. 2 மட்டும் c. 1, 3 மட்டும் d. அனைத்தும் சரி

11. சரியான குறியீட்டினை தேர்வு செய்க?
- முதல் பாணிபட் போர் - பாபருக்கும் இப்ராஹிம் லோடிக்கும் இடையே 1526, ஏப்ரல் 21-ல் நடந்தது
 - கன்வா போர் - பாபருக்கும், மேவார் அரசர் ராணா சங்காவிற்கும் இடையே 1527-ல் நடந்தது
 - சந்தேரிப்போர் - 1528-ல் மேதினிராய்க்கும், பாபருக்கும் இடையே நடந்தது
 - கோக்ரா போர் - 1529-ல் பாபருக்கும், ஆப்கானியருக்கும் இடையே நடந்தது
- a. 1, 2, 4 b. 1, 3, 4 c. 1, 2, 3 d. அனைத்தும் சரி
12. சரியான குறியீட்டினை தேர்வு செய்க?
- போலஜ் (Polaj) என்பது ஒவ்வொரு ஆண்டும் விவசாயம் செய்யும் நிலமாகும்.
 - அக்பர் 1564-ல் ஜெசியா வரியை நீக்கினார்
 - 1579-ல் மஹஜர் அல்லது தவறுபடா ஆணை வெளியிடப்பட்டது
 - ஜஹாங்கீர் காலத்தில் முகாலய கால ஓவியக்கலை உச்சத்திலிருந்தது
- a. 1, 2, 3 b. 2, 3, 4 c. 1, 2, 4 d. அனைத்தும் சரி
13. கீழ்க்கண்டவற்றுள் தவறானது எது?
- நிர்ந்தர நிலவரித் திட்டம் 1793-ல் காரன்வாலிஸ் பிரபுவால் வங்காளம் மற்றும் பீகாரில் அறிமுகப்படுத்தப்பட்டது
 - ராயத்துவாரி முறை, 1820-ல் சர் தாமஸ் மன்றோ என்பவரால் மதராஸ் மாகாணத்தில் அறிமுகப்படுத்தப்பட்டது
- a. 1 மட்டும் சரி b. 2 மட்டும் சரி c. இரண்டும் தவறு d. இரண்டும் சரி
14. பொருத்துக?
- | | |
|----------------------|--------------------|
| A) சங்கராச்சாரியார் | 1. துவைதாத்வைதம் |
| B) ராமானுஜர் | 2. த்துவைதம் |
| C) மத்துவாச்சாரியார் | 3. விஷிஷ்டாத்வைதம் |
| D) ஸ்ரீமீம்பர்கர் | 4. அத்வைதம் |
- | | | | | |
|----|---|---|---|---|
| | A | B | C | D |
| a) | 1 | 2 | 3 | 4 |
| b) | 4 | 3 | 2 | 1 |
| c) | 2 | 1 | 4 | 3 |
| d) | 3 | 4 | 1 | 2 |
15. பொருத்துக?
- | | |
|---------------------|---------------------------------------|
| A) முதலாம் ஹரிஹரர் | 1. பஹபெல்சி செப்பேடு (Bagapelli) |
| B) 2-ஆம் ஹரிஹரர் | 2. சென்னராயப்பட்டினம் கல்வெட்டு |
| C) 2-ஆம் தேவராயர் | 3. ஸ்ரீரங்கம் செப்பேடு |
| D) இம்மடி நரசிம்மன் | 4. தேவள பள்ளி செப்பேடு (Devullapalli) |
- | | | | | |
|----|---|---|---|---|
| | A | B | C | D |
| a) | 1 | 2 | 3 | 4 |
| b) | 4 | 3 | 2 | 1 |
| c) | 3 | 4 | 1 | 2 |
| d) | 2 | 1 | 4 | 3 |
16. கீழ்க்கண்ட எந்த அமைப்பு கூண்டுக்கிளி (Caged Parrot) என அழைக்கப்படுகிறது?
- a. மத்திய விழிப்புப்பணி ஆணையம் (CVC) b. தேர்தல் ஆணையம்
c. மத்திய குற்றப்பலனாய்வு அமைப்பு (CBI) d. எல்லை பாதுகாப்பு படை (BSF)
17. பொருத்துக?
- | | |
|--|------------------------|
| A) உண்மையை தேடுவோர் சங்கம் (1873) | 1. திகம்பர், பிஸ்வாஸ் |
| B) இண்டிகோ புரட்சி (1859-69) | 2. ஜோதீபா புவே |
| C) ஒடுக்கப்பட்டோர் நலவாழ்வு மையம் (1924) | 3. காந்தி |
| D) அரிஜன சேவா சங்கம் (1932) | 4. Dr. B.R.அம்பேத்கார் |
- | | | | | |
|----|---|---|---|---|
| | A | B | C | D |
| a) | 2 | 1 | 4 | 3 |
| b) | 2 | 4 | 3 | 1 |
| c) | 4 | 3 | 2 | 1 |
| d) | 2 | 1 | 3 | 4 |
18. நீதிக்கட்சியைப் பற்றிய கீழ்க்கண்ட கூற்றுகளில் சரியானது எது?
- இந்து அறநிலையச் சட்டம் கொண்டுவரப்பட்டது
 - பெண்களுக்கு வாக்குரிமை வழங்கப்பட்டது
 - இலவச வீட்டுமனை வழங்கும் திட்டம் அறிமுகப்படுத்தப்பட்டது
 - பணியாளர் தேர்வாணைக்குழு அமைக்கப்பட்டது
- a. 1, 2, 4 b. 2, 4 மட்டும் c. 1, 3 மட்டும் d. அனைத்தும்

19. சுதேச சமஸ்தானங்கள் இந்திய யூனியனுடன் இணைந்த சரியான காலவரிசையினை குறிப்பிடுக?
1. ஜதராபாத், 2. கோவா, 3. பாண்டிச்சேரி 4. ஜனாகத்
a. 1, 4, 3, 2 b. 1, 2, 3, 4 c. 4, 3, 2, 1 d. 4, 2, 3, 1
20. ஒரு மேசையின் மீது 7 புத்தகங்கள் ஒன்றின்மீது ஒன்றாக அடுக்கி வைக்கப்பட்டுள்ளன.
(i) பொது நிர்வாகத்திற்கான புத்தகம் உச்சியில் வைக்கப்பட்டுள்ளது
(ii) பொது நிர்வாகத்திற்கு கீழ் வரலாறும், வரலாற்று புத்தகத்திற்கு கீழ் அறிவியலும் உள்ளன
(iii) பொருளாதாரம், தத்துவவியலுக்கு மேலாக உள்ளது. ஆனால் இது அனைத்து புத்தகங்களுக்கும் இடையில் இல்லை
(iv) தத்துவவியலுக்குக் கீழ் இந்தி புத்தகம் உள்ளது
எனில் பொருளாதாரப்புத்தகம் எந்த இரு புத்தகங்களுக்கு இடையில் உள்ளது?
a. அறிவியல், வரலாறு b. தத்துவம், இந்தி c. ஆங்கிலம், தத்துவம் d. எதுவுமில்லை
21. ரமேஷ் மற்றும் கணேஷ் ஆகியோரது தற்போதைய வயதுகளின் விகிதம் 3:2 ஆகும். 4 ஆண்டுகளுக்கு முன்பு ரமேஷின் வயது கணேஷின் வயதை விட 6 அதிகம் எனில் கணேஷின் தற்போதைய வயது என்ன?
a. 18 b. 12 c. 6 d. 16
22. சாதாரண வட்டி விகிதத்தில் ரூ. 22,500/- முதலீடு செய்யும்பொழுது 4 ஆண்டுகளின் முடிவில் ரூ. 10,800/- வட்டி கிடைக்கிறது எனில் கூட்டு வட்டியில் 2 ஆண்டுகள் முடிவில் எவ்வளவு வட்டி கிடைக்கும்?
a. 16,908/- b. 5,724/- c. 28,224/- d. 8,586/-
23. கீழ்க்கண்டவற்றுள் சரியான குறியீட்டினை தேர்வு செய்க?
1. 1942, ஆகஸ்டு 8-ல் மும்பை காங்கிரஸ் கூட்டத்தில் வெள்ளையனே வெளியேறு இயக்கத்திற்கான தீர்மானம் நிறைவேற்றப்பட்டது.
2. இந்தியாவை கடவுளின் கைகளில் ஒப்படைவிட்டு பிரிட்டிஷார் நாட்டைவிட்டு வெளியேற வேண்டுமென காந்தி கூறினார்
3. போராட்டத்தின்போது நேரு, அல்மோரா சிறையிலும், மௌலானா ஆசாத் பாங்குரா சிறையிலும், காந்தி ஆஷாகான் அரண்மனையிலும் சிறை வைக்கப்பட்டனர்
4. வர்த்தகர்கள், இஸ்லாமியர், இந்து மகா சபை, கம்யூனிஸ்ட் ஆகியோர் இந்த போராட்டத்திற்கு தீவிர ஆதரவு அளித்தனர்
a. 1, 2, 4 b. 1, 2, 3 c. 1, 3, 4 d. அனைத்தும்
24. கீழ்க்கண்டவற்றுள் சரியான குறியீட்டைத் தேர்வு செய்க?
1. காந்தி தலைமையேற்ற INC மாநாடு - பெல்காம் (1924)
2. சுபாஷ் சந்திரபோஸ் தலைமையேற்று INC மாநாடு - ஹரிபுரா (1938). திரிபுரா (1939)
3. வெள்ளையனே வெளியேறு இயக்கத்தின்போது INC யின் தலைவர் - மௌலானா அபுல்கலாம் ஆசாத்
4. ஜவஹர்லால்நேரு முதன்முதலில் தலைமைப் பொறுப்பேற்ற INC மாநாடு - லாகூர் (1929)
a. 1, 2, 3 b. 1, 3, 4 c. 1, 2, 4 d. அனைத்தும் சரி
25. தேசிய கிட்டங்கி, மெட்ராஸ் விவசாய தொழிலக சங்க நிறுவனம், தேசாபிமான சங்கம் ஆகிய அமைப்புகளை உருவாக்க பாடுபட்டனர்?
a. வ.உ.சிதம்பரனார் b. திலகர் c. சுப்பிரமணியசிவா d. ராஜாஜி
26. பொருத்துக?
1) பிபின் சந்திர பால் i நியூ இந்தியா
2) உபாத்யாயா ii சந்தியா
3) பரீந்தர் கோஷ் iii யுகந்தர்
4) அஜித்சிங் iv பாரத்மாதா
a) 1-i, 2-ii, 3-iii, 4-iv b) 1-ii, 2-iii, 3-i, 4-iv
c) 1-iv, 2-iii, 3-i, 4-ii d) 1-iii, 2-iv, 3-i, 4-ii
27. சுதேசி இயக்கத்துடன் தொடர்புடைய நிகழ்வுகளில் சரியானது எது?
1. பிபின்சந்திரபால் மெட்ராஸ் மாகாணத்தில் வந்தே மாதரம் இயக்கத்தை தலைமையேற்று நடத்தினார்
2. திலகர் சுதேசி வஸ்திர பிரச்சாரிணி சபையை துவக்கினார்.
3. சாவாக்கர் மித்ரமேனா என்ற அமைப்பை துவக்கினார்
4. அனுசீலன் சமிதியின் கொல்கத்தா கிளையினை துவக்கியவர்கள் பிரேந்திரகோஷ் மற்றும் ஜதீன் பானர்ஸி
5. அனுசீலன் சமிதியின் டாக்கா கிளையினை துவக்கியவர் புலின் தாஸ்
a. 1, 2, 3, 4 b. 1, 3, 4, 5 c. 2, 3, 4, 5 d. அனைத்தும் சரி
28. இந்திய தேசிய காங்கிரஸின் முதல் கூட்டம் எங்கு நடைபெற்றது?
a. கோகுல்தாஸ் தேஜ்பால் சமஸ்கிருத கல்லூரி b. வைசிராய் இல்லம் c. C.R.தாஸ் இல்லம் d. இந்து கல்லூரி கொல்கத்தா

29. இரண்டு வட்டங்களின் சுற்றளவுகள் முறையே 132மீ, 176மீ எனில் இரண்டு வட்டங்களின் பரப்புகளின் வித்தியாசம் என்ன?
 a. 1048ச.மீ b. 1076 ச.மீ c. 1078 ச.மீ d. 1090 ச.மீ
30. 1857-ஆம் ஆண்டு புரட்சி பற்றிய கீழ்க்கண்ட கூற்றுகளுள் சரியானது எது?
 1. மங்கள் பாண்டே என்ற ராணுவ வீரர் 1857 மார்ச் 29-ல் பாரக்பூரில் புரட்சியை துவக்கினார்
 2. 1857, மே 10-ல் மீரட் படைப்பிரிவைச் சேர்ந்த 3-வது படையணி வீரர்கள் கொழுப்பு தடவிய தோட்டாக்களை பயன்படுத்த மறுத்தனர்
 3. இங்கிலாந்து, எதிர்கட்சி தலைவர் பெஞ்சமின் தீஸ்ரேலி இப்புரட்சியை “ஆழ்ந்த அவநம்பிக்கையினால் ஏற்பட்ட தேசிய புரட்சி” என்று கூறினார்
 4. புரட்சியின் முடிவில் 2-ஆம் பகதூர்-ஷா ரங்கூனுக்கு நாடு கடத்தப்பட்டார்
 5. ஜான் நிக்கல்சன் 1857, செப்டம்பர் 20-ல் டெல்லியை மீட்டார்
 a. 1, 2, 4, 5 b. 2, 3, 4 c. 1, 3, 5 d. அனைத்தும் சரி
31. தன்னாட்சி இயக்கம் துவக்கப்பட்டதன் நோக்கம்?
 1. பிரிட்டிஷ் இந்தியாவில் சுய ஆட்சி பெறுதல்
 2. தேசிய கல்வி, சமூக மற்றும் அரசியல் சீர்திருத்தங்களுக்காக பாடுபடுதல்
 a. 1 மட்டும் சரி b. 2 மட்டும் சரி c. இரண்டும் சரி d. இரண்டும் தவறு
32. பொருத்துக?
 A) செவ்வாய் 1. போபோஸ், நீமோஸ்
 B) வியாழன் 2. டியூரோபா, கனிமேடு
 C) யுரேனஸ் 3. டைட்டானியா, ஓபரான்
 D) சனி 4. டைடன், டெத்தீஸ்
- | | | | | |
|----|---|---|---|---|
| | A | B | C | D |
| a) | 1 | 2 | 3 | 4 |
| b) | 4 | 3 | 2 | 1 |
| c) | 3 | 1 | 4 | 2 |
| d) | 2 | 4 | 1 | 3 |
33. சரியான குறியீட்டைத் தேர்வு செய்க?
 1. கண்ட நகர்வு கோட்பாட்டை முன்மொழிந்தவர் ஆல்பர்ட் வெக்னர் (1912)
 2. அஸ்தினோஸ்பியர் அடுக்கு இடையடுக்கின் மேல்பகுதியில் அமைந்துள்ளது
 3. இஸ்துமஸ் (Isthmus) என்பது இரண்டு பெரிய நிலப்பகுதிகளை இணைக்கும் குறுகலான நீண்ட நிலப்பகுதியாகும்
 4. சனி மற்றும் வியாழன் கோள்களுக்கிடையில் விண்கற்கள் அதிகமாகக் காணப்படுகிறது
 5. வால் நட்சத்திரத்தின் வால் பகுதி எப்பொழுதும் சூரியனுக்கு எதிர்திசையில் இருக்கும்
 a. 1, 2, 3, 5 b. 2, 3, 4 c. 1, 3, 4, 5 d. அனைத்தும் சரி
34. தவறானதை தேர்வு செய்க?
 a. குஜராத்-1960 b. கோவா-1987 c. ஹரியானா-1960 d. திரிபுரா-1972
35. மத அடிப்படையிலான பாகுபாட்டை தடை விதிக்கும் அடிப்படை உரிமையானது கீழ்க்கண்டவற்றுள் எந்த பிரிவில் அடங்கும்?
 a. மதச்சுதந்திர உரிமை b. சுரண்டலுக்கு எதிரான உரிமை
 c. கலாச்சார மற்றும் கல்வி உரிமை d. சமத்துவ உரிமை
36. கீழ்க்கண்ட விவரங்களை படித்து சரியான விடையைத் தேர்வு செய்க?
 கூற்று (A): இந்திய அரசியலமைப்புச் சட்டத்தின்படி குடியரசுத்தலைவருக்கு அவசர நிலை பிரகடனம் செய்தவற்கான அதிகாரம் உள்ளது.
 காரணம் (R): அவசர நிலை பிரகடனத்தின்போது அடிப்படை உரிமைகளை தற்காலிகமாக நிறுத்தி வைக்க குடியரசுத்தலைவருக்கு உரிமை உள்ளது
 a. (A) மற்றும் (R) சரி, மேலும் (R) என்பது (A) விற்கு சரியான விளக்கம்
 b. (A) மற்றும் (R) சரி. மேலும் (R) என்பது (A) விற்கு சரியான விளக்கமல்ல
 c. (A) சரி ஆனால் (R) தவறு d. (A) தவறு ஆனால் (R) சரி
37. இந்திய அரசியலமைப்புச் சட்டத்தின்படி ஜனாதிபதி பின்வரும் எந்த அறிக்கையை பாராளுமன்றத்தில் சமர்ப்பிக்க வேண்டும்?
 1. நிதி ஆணையத்தின் பரிந்துரைகள் 2. பொது கணக்குக் குழுவின் அறிக்கை
 3. CAG-யின் அறிக்கை 4. தேசிய தாழ்த்தப்பட்ட வகுப்பினருக்கான குழுவின் அறிக்கை
 a. 1 மட்டும் b. 2, 4 c. 1, 3, 4 d. அனைத்தும்

38. பொருத்துக?

- A) ஜனாதிபதியின் நிர்வாக அதிகாரம் 1. ஷரத்து 56
B) ஜனாதிபதியின் பதவிக்காலம் 2. ஷரத்து 54
C) ஜனாதிபதியின் தேர்தல் 3. ஷரத்து 61
D) ஜனாதிபதி பதவிநீக்கம் 4. ஷரத்து 53

a) A-4, B-1, C-2, D-3 b. A-2, B-1, C-3, D-4 c. A-1, B-2, C-3, D-4 d. A-4, B-3, C-2, D-1

39. இந்தியாவின் முதல் சைக்கிள் பயணத்திற்கான நெடுஞ்சாலை எந்த மாநிலத்தில் துவக்கப்பட்டுள்ளது?

- a. அஸ்ஸாம் b. மத்தியப்பிரதேசம் c. மகாராஷ்டிரா d. டெல்லி

40. இந்திய அரசியலமைப்பு தினம்

- a. ஜனவரி 26 b. நவம்பர் 26 c. ஆகஸ்ட் 15 d. அக்டோபர் 2

41. Death under the Deodars என்ற நூலின் ஆசிரியர்

- a. Ruskim Bond b. சல்மான் ருஷ்டி c. Arundati Roy d. Donald Dunten

42. இந்தியாவில் முதல்முறையாக ராணுவவீரர்கள் வாக்களிக்க ஆன்லைன் வாக்குப்பதிவு முறை எந்தத் தொகுதியில் அறிமுகப்படுத்தப்பட்டது?

- a. தஞ்சாவூர் b. திருப்பரங்குன்றம் c. நெல்லித்தோப்பு d. அரவக்குறிச்சி

43. கீழ்க்கண்ட எந்த மாநிலத்தின் அரசு கட்டிடங்கள் அனைத்தும் பசுமைத் தணிக்கை மேற்கொள்ள வேண்டுமென தேசிய பசுமை தீர்ப்பாயம் உத்தரவிட்டுள்ளது?

- a. டெல்லி b. உத்திரப்பிரதேசம் c. ஹரியானா d. ராஜஸ்தான்

44. பொருத்துக?

- A) உலக கழிவறை தினம் 1. நவம்பர் 19
B) சர்வதேச பெண்களுக்கு எதிரான குற்றங்கள் ஒழிப்பு தினம் 2. நவம்பர் 25
C) சர்வதேச மனித உரிமைகள் தினம் 3. டிசம்பர் 10
D) சர்வதேச வறுமை ஒழிப்பு தினம் 4. அக்டோபர் 17

	A	B	C	D
a)	1	2	3	4
b)	2	3	1	4
c)	3	1	4	2
d)	4	3	2	1

45. சரியாக பொருந்தியுள்ளதை தேர்வு செய்க

- a. நேமிநாதர் - நீலத்தாமரை b. அரிஷ்டநேமி - மான்
c. பார்ஷவநாதர் - சிங்கம் d. மகாவீரர் - பாம்பு

46. சரியான குறியீட்டை தேர்வு செய்க?

1. நீரை விட லேசான கோள் - சனி 2. திரையிட்ட கோள் எனப்படுவது வெள்ளி
3. பச்சைக் கோள் எனப்படுவது - யுரேனஸ் 4. யுத்தக் கடவுள் எனப்படுவது செவ்வாய்
a. 1, 2 b. 1, 3 c. 2, 4 d. அனைத்தும்

47. பொருத்துக?

- A) பாம்பாஸ் 1. உக்ரைன்
B) பிரையரி 2. உருகுவே
C) ஸ்டெப்பி 3. தென்னாப்பிரிக்கா
D) வெல்ட் 4. USA

	A	B	C	D
a)	4	3	2	1
b)	2	4	3	1
c)	2	4	1	3
d)	4	3	1	2

48. சுனாமி அலைகளைப் பற்றிய கீழ்க்கண்டவற்றுள் தவறானது எது?

- a. இது ஜப்பானிய வார்த்தைகளிலிருந்து பெறப்பட்டது. இதன்பொருள் துறைமுக அலைகள் என்பதாகும்
b. இது பசுபிக் பெருங்கடலில் அதிகளவில் உருவாகிறது
c. கடந்த 500 ஆண்டுகளாக அட்லாண்டிக் பெருங்கடல் பகுதியில் சுனாமி அலைகள் பதிவாகவில்லை
d. குவிவுத்தட்டுப் பகுதியில் உள்ள கடல்பகுதியில் இதன் வீச்சு அதிகமாக இருக்கும்

49. கீழ்க்கண்டவற்றுள் தவறானதை தேர்வு செய்க?
- மாண்கூன் (Monsoon) என்ற சொல்லை உருவாக்கியவர் அல்மசூதி என்பவராவார். இது மௌசீம் என்ற அரேபியச் சொல்லிருந்து பெறப்பட்டதாகும்
 - காணூன் அல்-மசூதி என்ற நூலை எழுதியவர் அல் பெருனி
 - அல்பெருதி மத்திய ஆசியாவிலிருந்து வந்தவர்
 - இப்பின்புடா ஆசியாவை விட ஆப்பிரிக்க நாடுகளில் அதிகம் சுற்றியுள்ளார்
50. கீழ்க்கண்ட செய்திகளிலிருந்து சரியான குறியீட்டினை தேர்வு செய்க?
- நீலகிரி மலைப்பகுதியின் தமிழகம் மற்றும் கர்நாடகாவை ஒட்டிய பகுதிகளில் தோடர் பழங்குடியினர் வசிக்கின்றனர்.
 - பலதார மனம் இவர்களிடையே காணப்படுகிறது
 - இவர்களிடையே எளிமையான திருமண சடங்குகளும், மனமுறிவு குறைவாகவும் காணப்படுகிறது
 - இவர்கள் ஆன்மவாதம் (Animist) என்ற கோட்பாடை பின்பற்றுகின்றனர்.
- 1, 2, 4
 - 2, 3
 - 1, 3, 4
 - அனைத்தும் சரி
51. தமிழகத்தில் உணவுப் பாதுகாப்புச் சட்டம் கொண்டுவரப்பட்ட நாள்?
- 1-11-2016
 - 1-11-2015
 - 31-10-2016
 - 14-11-2016
52. மிஷன் மதுமேகா என்ற திட்டத்தின் நோக்கம்?
- மது அடிமைகளுக்கு மறுவாழ்வு
 - கடலோர காவல்படையின் பாதுகாப்பு ஒத்திகை
 - நீரிழிவு நோய்க்கான ஆயுர்வேத மருத்துவமுறை
 - வானிலை ஆய்வை நவீனப்படுத்துதல்
53. சரியான குறியீட்டைத் தேர்வு செய்க?
- தேசிய பழங்குடியினர் திருவிழா - புதுடெல்லி
 - சிறந்த நிதி பயன்பாட்டிற்காக உலக வங்கி விருது - அலமாட்டி அணை (கர்நாடகா)
 - இந்தியாவின் முதல் ரயில்வே பல்கலை - வதோதரா
 - 2022-க்குள் அனைவருக்கும் வீடு - பிரதான் மந்திரி கிராமின் ஆவாஸ் யோஜனா
- 1, 2, 3
 - 2, 3, 4
 - 1, 2, 4
 - அனைத்தும் சரி
54. 2017-ஆம் ஆண்டில் இந்திய அறிவியல் மாநாடு எங்கு நடைபெறவுள்ளது?
- IISC பெங்களூர்
 - ஸ்ரீ வொங்கடேஷ்வரா பல்கலை, திருப்பதி
 - IIT சென்னை
 - பனாரஸ் பல்கலை, வாரணாசி
55. 15cm பக்க அளவுகள் கொண்ட ஒரு கனச்சதுரத்தினை 20x15cm அளவு கொண்ட செவ்வக வடிவ தொட்டியினுள் உள்ள நீரில் முழுவதுமாக மூழ்க வைக்கும்பொழுது எவ்வளவு நீர் உயர்ந்திருக்கும்?
- 11.25 cm
 - 10.50 cm
 - 12.50 cm
 - 15.55 cm
56. சிறப்பு பெரும்பான்மையுடன் திருத்தம் செய்யப்படக்கூடிய கூறுகள் எவை?
- அடிப்படை உரிமைகள்
 - வழிபாட்டு நெறிமுறைகள்
 - குடியரசுத் தலைவர் தேர்வு முறை
 - உச்சநீதிமன்ற உயர்நீதிமன்றத்தின் அதிகார வரம்பு
 - 7-வது அட்டவணையின் சரத்துகள்
- 1, 2, 3, 5
 - 2, 3, 4, 5
 - 3, 4, 5
 - அனைத்தும்
57. கீழ்க்கண்டவற்றுள் சரியானதை தேர்வுசெய்க?
- குடியரசுத் தலைவரின் ஒப்புதலின்றி மானியக் கோரிக்கைகள் கோர இயலாது
 - சட்டமன்ற அனுமதி இன்றி இந்திய தொகுப்பு நிதியிலிருந்து செலவினம் மேற்கொள்ள இயலாது
 - சட்டமன்ற அனுமதி இன்றி புதிய வரியை விதிக்கவோ, வசூலிக்கவோ கூடாது
 - எதிர்கட்சிகள் கொண்டு வரும் வெட்டுத் தீர்மானம் நிறைவேற்றப்பட்டால் அரசாங்கம் கவிழ்ந்துவிடும்
- 1, 2, 4
 - 1, 2, 3
 - 2, 3, 4
 - அனைத்தும்
58. ஒரு பேருந்து சக்கரத்தின் விட்டம் 140 செ.மீ. மணிக்கு 66 கி.மீ. வேகத்தில் பயணிக்க வேண்டுமெனில் அந்த சக்கரம் நிமிடத்திற்கு எத்தனை முறை சுற்ற வேண்டும்?
- 100
 - 250
 - 300
 - 150
59. எரிசக்தி நுகர்வில் இந்தியா உலகளவில் எத்தனையாவது இடம் வகிக்கிறது?
- 1
 - 2
 - 3
 - 4
60. தமிழகத்தில் 0-6 வயது குழந்தைகள் பாலின விகிதம் மிகவும் குறைவாக உள்ள மாவட்டம்?
- கடலூர்
 - அரியலூர்
 - பெரம்பலூர்
 - விழுப்புரம்
61. ரூ. 1000/-க்கு 4 ஆண்டுகளில் 10% வட்டி விகிதத்தில் சாதாரண வட்டி விகிதத்திற்கும், கூட்டு வட்டி விகிதத்திற்கும் உள்ள வித்தியாசம் எவ்வளவு?
- ரூ. 31/-
 - ரூ. 32.10 பை
 - ரூ. 40.40 பை
 - ரூ. 64.10 பை

62. ஒரு நபர் ரூ. 2600.00 4%, 6% மற்றும் 8% ஆண்டு தனி வட்டி வீதத்திற்கு முதலீடு செய்கிறார். முதிர்வடையும் பொழுது அவர் மூன்று வட்டி விகிதத்திலும் ஒரே அளவில் வட்டியை பெறுகிறார் எனில் 4% வட்டிக்கு முதலீடு செய்த தொகை ரூ?
- a. 200 b. 600 c. 800 d. 1200
63. ஒரு தொடடியில் உள்ள A மற்றும் B குழாய்கள் 36 நிமி, மற்றும் 45 நிமிடங்களில் தொடடியினை நிரப்பும், C என்ற குழாய் 30 நிமிடத்தில் தொடடியினை காலி செய்யும். A மற்றும் B குழாய்கள் திறக்கப்பட்டு 7 நிமிடங்களுக்குப் பிறகு C என்ற குழாய் திறக்கப்படுகிறது எனில், தொடடி நிரம்ப ஆகும் நேரம் எவ்வளவு?
- a. 36 நிமி b. 38 நிமி c. 39 நிமி d. 41 நிமி
64. தேசிய பசுமை தீர்ப்பாயத்தின் அலுவலக மொழி
- a. ஆங்கிலம் b. ஹிந்தி c. உருது d. 8-வது அட்டவணையில் உள்ள அனைத்து மொழிகள்
65. பழங்குடியினர் நலனுக்காக வனபாதுகாப்புச் சட்டம் இயற்றப்பட்ட ஆண்டு?
- a. 2008 b. 2005 c. 2009 d. 2007
66. உலக நாடுகளின் பார்வையாளர்கள் தேசம் எனப்படும் நாடு?
- a. இந்தியா b. அமெரிக்கா c. ஆப்கானிஸ்தான் d. பாலஸ்தீனம்
67. நாளந்தா பல்கலைக்கழகத்தை குமாரகுப்தர் எப்போது தோற்றுவித்தார்?
- a. கி.பி.3-ம் நூற்றாண்டு b. கி.பி.5-ம் நூற்றாண்டு c. கி.பி.7-ம் நூற்றாண்டு d. கி.பி. 11-ம் நூற்றாண்டு
68. நாளந்தா பல்கலைக்கழகம் தொடர்பான வாக்கியங்களில் எது தவறானது?
1. நாளந்தா பல்கலைக்கழகத்தை புதுப்பிக்க யோசனை தெரிவித்தவர் முன்னாள் குடியரசு தலைவர் அப்துல்கலாம்
 2. நாளந்தா பல்கலைக்கழகம் மீண்டும் செயல்பட துவங்கிய நாள் 25-11-2010
 3. நாளந்தா பல்கலைக்கழகத்தின் முதல் துணைவேந்தர் அமர்த்தியா சென்
 4. நாளந்தா பல்கலைக்கழக வேந்தரை நியமிப்பவர் குடியரசு தலைவர்
- a. 1, 2 b. 3 மட்டும் c. 2, 4 d. அனைத்தும்
66. பிடல் காஸ்ட்ரோ என்ற பெயரின் பிடல் மற்றும் காஸ்ட்ரோ என்ற இலத்தீன் சொல்லின் பொருள்?
- a. நம்பிக்கை, கோட்டை b. கோட்டை, நம்பிக்கை c. தலைவர், ஆசான் d. எதுவுமில்லை
67. உலகில் அதிக ஆண்டுகள் பதவி வகித்த அதிபர்கள் வரிசை?
1. இரண்டாம் ராணி எலிசபெத்
 2. அப்துல் ஹலிம்
 3. காஸ்ட்ரோ
- a. 1, 2, 3 b. 3, 2, 1 c. 2, 1, 3 d. எதுவுமில்லை
68. கியூபா அதிபராக இருந்த பிடல் காஸ்ட்ரோவின் இயற்பெயர்?
- a. ரவுல் காஸ்ட்ரோ b. பிடெல் அலெஜாண்ட்ரோ காஸ்ட்ரோ c. இரண்டும் d. எதுவுமில்லை
69. பிடல் காஸ்ட்ரோ பிரதமராக பதவி வகித்த காலம்?
- a. 1926-2016 b. 1959-1976 c. 1976-2008 d. 1956-1986
70. பாகிஸ்தான் புதிய இராணுவ தளபதி?
- a. ஷெரீப் b. ஜாவேத் பஜ்வா c. நவாப் ஷெரீப் d. ஜின்னா
71. உலக கழிப்பறை தினம்?
- a. நவம்பர் 19 b. நவம்பர் 26 c. நவம்பர் 29 d. நவம்பர் 9
72. ஒரு கோளத்தின் ஆரமானது மற்றொரு கோளத்தின் ஆரத்தில் பாதி எனில் அவற்றின் கனஅளவுகளின் விகிதம்?
- a. 1:8 b. 2:1 c. 1:2 d. 8:1
73. ஒரு இணைகரத்தின் எல்லா பக்கங்களும் ஒரு வட்டத்தினை தொடுமானால் அது?
- a. சதுரம் b. முக்கோணம் c. சரிவகம் d. சாய்சதுரம்
74. சரியான கூற்று எது?
1. சமவாய்ப்பு முறையில் தேர்ந்தெடுக்கப்படும் நெட்டாண்டில் (Leap year) 53 வெள்ளிக்கிழமைகள் இருக்க நிகழ்தகவு 2/7
 2. சமவாய்ப்பு முறையில் தேர்ந்தெடுக்கப்படும் நெட்டாண்டில் 52 வெள்ளிக்கிழமைகள் இருக்க நிகழ்தகவு 5/7
 3. சமவாய்ப்பு முறையில் தேர்ந்தெடுக்கப்படும் சாதாரண வருடத்தில் (Non-Leap year) 53 வெள்ளிக்கிழமைகள் இருக்க நிகழ்தகவு 1/7
 4. ஒரு குறிப்பிட்ட நாளில் மழை பெய்வதற்கான நிகழ்தகவு 0.76 எனில் மழைவராமல் இருக்க நிகழ்தகவு 0.24
- a. 1, 4 மட்டும் b. 2, 3 மட்டும் c. 1, 2 மட்டும் d. அனைத்தும்

75. சரியான இணை எது?

1. முதல் n இயல்எண்களின் சராசரி $n+1/2$

2. முதல் n இயல்எண்களின் திட்டவிலக்கம் $\sqrt{n^2-1/12}$

3. முதல் 10 இயல்எண்களின் திட்டவிலக்கம் 2.87

4. முதல் 13 இயல்எண்களின் திட்டவிலக்கம் 3.74

a. 1, 2 மட்டும்

b. 3, 4 மட்டும்

c. 1, 2, 4 மட்டும்

d. அனைத்தும்

76. $(1+2/2)(1+2/3) + (1+2/4).....(1+2/n) = ?$

a. $\frac{(n+1)(n+2)}{6}$

b. $\frac{(n+1)(n+2)}{8}$

c. $\left[\frac{n(n+1)}{2}\right]^2$

d. $\frac{n(n+1)(2n+1)}{6}$

77. நதிகளை இணைக்க வேண்டும் என்ற கருத்தை இந்தியாவின் முதன்முதலில் உருவாக்கியவர்?

a. அப்துல்கலாம்

b. மேதாபட்கர்

c. ஆர்தர்காட்டன்

d. வாஜ்பாய்

78. இந்தியாவின் முதல் டிஜிட்டல் கிராமமான அகோதரா எந்த மாநிலத்தில் உள்ளது?

a. குஜராத்

b. ராஜஸ்தான்

c. உத்திரப்பிரதேசம்

d. மகாராஷ்டிரா

79. 100 நாட்களில் 100 கிராமங்களை டிஜிட்டல் கிராமமாக மாற்ற முயற்சி எடுத்துள்ள வங்கி?

a. SBI

b. கனரா வங்கி

c. ICICI

d. இந்தியன் வங்கி

80. இந்திய பருத்திக்கு சமீபத்தில் தடைவிதித்த நாடு?

a. ஜப்பான்

b. இலங்கை

c. ஆப்கானிஸ்தான்

d. பாகிஸ்தான்

81. குழந்தை திருமணத்தில் முதலிடம் வகிக்கும் தமிழக மாவட்டம்?

a. கிருஷ்ணகிரி

b. தர்மபுரி

c. சேலம்

d. ஈரோடு

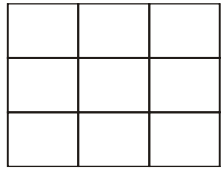
82. குழந்தை திருமணத்தில் முதலிடம் வகிக்கும் இந்திய மாநிலம்?

a. பீகார்

b. ஜார்கண்ட்

c. ராஜஸ்தான்

d. தமிழ்நாடு



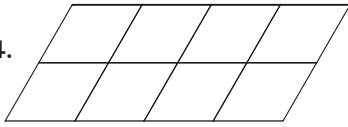
83. படத்தில் உள்ள சதுரங்களின் எண்ணிக்கை?

a. 18

b. 14

c. 10

d. 9



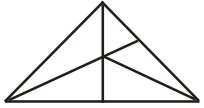
84. படத்தில் உள்ள இணைகரங்களின் எண்ணிக்கை?

a. 20

b. 24

c. 28

d. 30



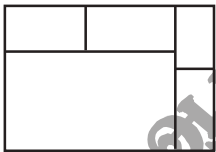
85. படத்தில் உள்ள முக்கோணங்களின் எண்ணிக்கை?

a. 16

b. 10

c. 11

d. 12



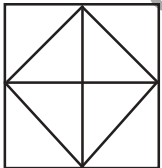
86. படத்தில் உள்ள செவ்வகங்களின் எண்ணிக்கை?

a. 6

b. 7

c. 9

d. 11



87. படத்தில் உள்ள முக்கோணங்களின் எண்ணிக்கை?

a. 8

b. 10

c. 12

d. 14

16	210	14
14	156	12
12	?	10

88. a. 90 b. 100 c. 110 d. 120

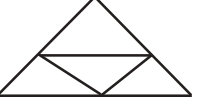
89. குழந்தைகள் தினத்தில் 175 குழந்தைகளுக்கு சமமாக இனிப்புகள் வழங்கப்பட்டன. அந்த குழந்தைகள் தினத்தில் 35 குழந்தைகள் பள்ளிக்கு வரவில்லை, இதனால் ஒரு குழந்தை 4 இனிப்புகள் கூடுதலாக பெறுகின்றது எனில் வழங்குவதற்கு உள்ள இனிப்புகள் எத்தனை?

a. 2400

b. 2480

c. 2680

d. 2800

90. 100 பூனைகள், 100 எலிகளை 100 நாட்களில் கொன்றால் 4 பூனைகள், 4 எலிகளை எத்தனை நாட்களில் கொல்லும்?
 a. 1 நாள் b. 4 நாள் c. 40 நாட்கள் d. 100 நாட்கள்
91. BEAT என்பதை YVZG என்று குறிப்பிட்டால் MILD என்படி குறிப்பிடப்படும்?
 a. ONRW b. NOWR c. ONWR d. NROW
92. வேறுபட்டது எது?
 a. 18R b. 24X c. 22V d. 12M
93. தொடரில் தவறானது எது? 7, 28, 63, 124, 215, 342, 511
 a. 7 b. 28 c. 124 d. 215
94. $1/2, 3/4, 5/8, 7/16, \dots$?
 a. $9/32$ b. $10/17$ c. $11/34$ d. $12/35$
95.  படத்தில் எத்தனை முக்கோணங்கள் உள்ளன?
 a. 4 b. 5 c. 6 d. 7
96. அட்வகேட் ஜெனரலின் பதவிக்காலம்?
 a. 5 ஆண்டுகள் b. 6 ஆண்டுகள் c. ஆளுநர் விரும்பும்வரை d. 3 ஆண்டுகள்
97. கீழ்க்கண்டவர்களில் வேறுபட்டவரை தெரிவு செய்?
 a. H.L.தத்து b. A.S.ஆனந்த் c. J.S.வர்மா d. டி.எஸ்.தாக்கூர்
98. குவைத் நாடாளுமன்றத்தின் மொத்த இடங்கள்?
 a. 50 b. 40 c. 60 d. 100
99. ஜி.எஸ்.டி வரி அமுல்படுத்த எத்தனை அடுக்குமுறை பின்பற்றபடவுள்ளது?
 a. 2 அடுக்கு b. 3 அடுக்கு c. 4 அடுக்கு d. 5 அடுக்கு
100. இந்தியாவில் 2 அக்டோபர் 1959 அன்று ராஜஸ்தான் மாநிலத்தில் எந்த மாவட்டத்தில் பஞ்சாயத்துராஜ் முதன் முதலில் கொண்டுவரப்பட்டது?
 a. நாகர் b. பார்மர் c. உத்யபூர் d. ஜெய்ப்பூர்
101. இந்தியாவில் மாவட்ட ஆட்சியர் அலுவலகம் எந்த ஆண்டு உருவாக்கப்பட்டது?
 a. 1771 b. 1772 c. 1774 d. 1777
102. கீழ்க்கண்ட மாநிலங்களில் எவற்றுள் மாவட்ட ஆட்சியர் மாவட்ட நீதிபதி (District Magistrate) என அழைக்கப்படுகிறார்?
 1. ஜம்முகாஷ்மீர் 2. உத்திரப்பிரதேசம் 3. அஸ்ஸாம் 4. மேற்கு வங்காளம்
 a. 1, 2 b. 2, 3 c. 2, 4 d. 1, 4
103. மாவட்ட நீதிபதிகளை நியமிப்பவர்?
 a. உயர்நீதிமன்ற நீதிபதி b. உச்சநீதிமன்ற நீதிபதி c. ஆளுநர் d. குடியரசு தலைவர்
104. இந்தியாவின் முதல் தலைமை செயலர் (Chief Secretary)
 a. G.S.பர்லோ b. மெளண்ட்பேட்டன் c. ராஜாஜி d. எதுவுமில்லை
105. 4-வது நீதிக்குழுத்தலைவர்
 a. குஸ்ரு b. பந்த் c. ராஜமன்னார் d. சந்தானம்
106. இந்திய அரசியலமைப்பில் தற்போது உள்ள மொத்த விதிகள் (Articles)
 a. 448 b. 449 c. 450 d. 395
107. உலக வானிலை ஆய்வு மையம் எந்த நாட்டில் அமைந்துள்ளது?
 a. ஜப்பான் b. அமெரிக்கா c. இந்தியா d. சுவீட்சர்லாந்து
108. பசுபிக் கடலின் மத்திய கிழக்கு பகுதியில் கடலின் வெப்பநிலை இயல்பான அளவை விட கூடுவது _____ என்றும் குறைவது _____ என்றும் அழைக்கப்படுகிறது?
 a. லாநினோ, எல்நினோ b. எல்நினோ, லாநினோ c. K வெதர் d. எதுவுமில்லை
109. வானிலை நிகழ்வுகளை எந்த ஆண்டுகளின் அடிப்படையில் கணிக்கப்படுகிறது?
 a. 1961-1990 b. 1991-1995 c. 1947-1997 d. 2001-2015
110. சமீபத்தில் மிகுந்த வெப்ப ஆண்டாக எந்த ஆண்டு கணிக்கப்பட்டுள்ளது?
 a. 2006 b. 2005 c. 2016 d. 2014
111. தாய்லாந்தின் புதிய மன்னராக தேர்வு செய்யப்பட்டுள்ள மகா வஜிரலோங்கோன் எத்தனையாவது மன்னர்?
 a. 10 b. 9 c. 8 d. 7

112. மக்களவை சபாநாயகர்
a. மீராசுமார் b. சோம்நாத் சாட்டர்ஜி c. சுமித்ரா மகாஜன் d. அருண்ஜெட்லி
113. உலகிலேயே வயதான பெண்மணி
a. எம்மாமொரானா b. அன்னிபெசன்ட் c. ராணி எலிசபெத் d. எதுவுமில்லை
114. தமிழகத்தில் முதன்முறையாக விவசாயிகளுக்கு ஸ்மார்ட் கார்டு வழங்கிய மாவட்டம்
a. திண்டுக்கல் b. மதுரை c. திருச்சி d. கோவை
115. ஆஸ்திரேலியாவில் முதல் பெண் தலைமை நீதிபதியாக நியமிக்கப்பட்டுள்ளவர்?
a. சூசன்கீபெல் b. ராபர்ட் பிரெஞ்ச் c. மால்கம் டரன்புல் d. எதுவுமில்லை
116. தமிழக அரசின் நேரடி கட்டுப்பாட்டில் உள்ள பல்கலைக்கழகங்கள்
a. 19 b. 20 c. 21 d. 24
117. சரியான இணை எது?
1. கியாந்த் புயல் - மியான்மர், 2. நாடா புயல் - ஏமன், 3. வர்தா புயல் - பாகிஸ்தான்
a. 1, 2 b. 2, 3 c. 1, 2, 3 d. எதுவுமில்லை
118. $1^3+2^3+\dots+9^3 = 2025$ எனில் $(0.11)^3+(0.22)^3+\dots+(0.99)^3 = ?$
a. 0.2695 b. 0.3695 c. 2.695 d. 3.695
119. $(a/b)^{x-1} = (b/a)^{x-3}$ எனில் $x = ?$
a. 1/2 b. 1 c. 2 d. 0
120. $3^{x-y} = 27$, $3^{x+y} = 243$ எனில் $x = ?$
a. 0 b. 2 c. 4 d. 6
121. இரு எண்களின் பெருக்கல்பலன் 120 அவற்றின் வர்க்கங்களின் கூடுதல் 289 எனில் அவ்வெண்களின் கூடுதல்?
a. 20 b. 23 c. 169 d. எதுவுமில்லை
122. திரையரங்குகளில் தேசிய கீதம் கட்டாயம் என்ற வழக்குடன் தொடர்புடையவர்கள்
1. ஷியாம் நாராயணன், 2. தீபக்மிஸ்ரா, 3. அமிதவாராய்
a. 1, 2 b. 1, 3 c. 1 மட்டும் d. 1, 2, 3
123. மின்னணு பணப்பரிமாற்ற முறையை மேம்படுத்த மத்திய அரசு யார் தலைமையில் முதல்வர்கள் குழுவை அமைத்துள்ளது?
a. மாணிக்கசர்க்கார் b. நாராயணசாமி c. சந்திரபாபுநாயுடு d. நீதிஷ்குமார்
124. உடல்உறுப்பு தானம் மற்றும் உறுப்பு மாற்று சிகிச்சை வழங்களில் முதன்மை மாநிலத்திற்கான விருது எந்த மாநிலம் பெற்றது?
a. ஆந்திரா b. தமிழ்நாடு c. பீகார் d. ஒரிஸ்ஸா
125. புதிய ரூ. 2000/- நோட்டுக்கள் எங்கு அச்சிடப்படுகிறது?
a. மைசூர் b. நாசிக் c. மும்பை d. காந்திநகர்

ஒலிம்பிக் போட்டிகள்

22	1980	மாஸ்கோ(ரஷ்யா)	5,179	80	203
23	1984	லாஸ் ஏஞ்சல்ஸ்(அமெரிக்கா)	6,829	140	221
24	1988	சியோல்(தென் கொரியா)	8,391	159	237
25	1992	பர்சிலோனா(ஸ்பெயின்)	9,356	169	257
26	1996	அட்லான்டா(அமெரிக்கா)	10,318	197	271
27	2000	சிட்னி(ஆஸ்திரேலியா)	10,651	199	300
28	2004	ஏதென்ஸ்(கிரீஸ்)	10,625	201	301
29	2008	பீஜிங்(சீனா)	10,942	204	302
30	2012	லண்டன்(இங்கிலாந்து)	10,500	204	302
31	2016	ரியோ (பிரேசில்)	11,239	206	306